

Гусова Ксения 11кл

Муниципальный этап всероссийской олимпиады школьников

Технология (девушки)  
10-11 класс

теоретический  
II место - 28/35  
Пр-раб - 28/35  
защита 30/35  
80/70

Уважаемый участник!

Теоретические задания первого тура состоят из 25 заданий, в которых предложены тесты с одним или несколькими правильными ответами. Также предложены теоретические вопросы, на которые следует дать исчерпывающий ответи творческое задание.

Задача участника: внимательно ознакомиться с предложенными заданиями и выполнить их в строгом соответствии с формулировкой.

Каждый правильный ответ в заданиях с 1 по 24 оценивается в 1 балл.

Задание 25 оценивается в 11 баллов.

Всего за теоретический тур максимальное количество баллов, которое может набрать участник, составляет 35 баллов.

Длительность 1-го тура (теоретического) составляет 1,5 часа (90 минут).

Задания теоретического конкурса номинации  
«Культура дома и декоративно-прикладное творчество»  
10-11 класс

Шифр \_\_\_\_\_

Технология

1. Прочитайте текст, назовите технологию.

В Лондоне изобретены новые ткани с ароматическими и увлажняющими веществами, а также абсорбентами, устраняющими запах табака. Частицы наноразмеров ароматических веществ размещаются в волокнах тканей. При движении человека содержимое капсул высвобождается, создавая соответствующий аромат.

Ответ: нанотехнология аромата 15

Кулинария

2. Объясните, с какой технологией связан известный фразеологизм: «...на мякине не проведёшь»

Ответ: отходыми зерно не заменишь; надо очищать зерно от колосов. 15

3. Решите задачу:

Определить количество порций пшённой вязкой каши, которое можно приготовить из бкг пшена из расчета порции 200г, если известно, что соотношение количества крупы и количества готового продукта 1:4.

Решение: 1кг крупы - 4кг каши  
6кг x 4 = 24кг каши  
24 : 0,2 = 120 порций. Ответ: 120 порций. 15

4. Назовите способ механической обработки продуктов, заключающийся в частичном разрушении структуры однородной эластичной массы, который применяется для ускорения процесса тепловой обработки продукта в приготовлении кондитерских изделий.

Ответ: рыхление 15

5. Название какой ягоды (одной из древнейших пищевых культур, используемых для приготовления большого количества блюд) стало названием модели брук?

Ответ: банан 15

6. Впишите пропущенные слова:

Правильно питаться – значит сочетать растительную 15 и животную пищу в соответствии с возрастом, характером труда, состоянием здоровья.

Ответ: в правильной пропорции белки, жиры и углеводы

7. Заполните таблицу, используя слова для справок в соответствии с видом обработки пищевых продуктов.

Химическая обработка пищевых продуктов	Физическая обработка пищевых продуктов
поваренная соль квашение сахаром	очисткой вывариванием шпикованием

Слова для справок: очисткой, поваренной солью, квашением, сахаром, вывариванием, шпикованием.

### Материаловедение

8. Предложите исходное сырьё, в процессе преобразования которого можно получить ткани: капрон, нитрон, лавсан.



Ответ: природный газ, нефть, уголь

9. Объясните, что произойдёт с праздничным платьем из вискозного шелка после стирки в горячей воде и отжима в стиральной машине?

Ответ: теряет внешний вид, прочность, быстро изнашивается и садится, также может сдвинуться на электроушилке

10. Зашируйте на рисунках схемы переплетений нитей, соответствующие приведённым ниже формулам, начиная со второго ряда:

а)  $R = 7/2$ ; б)  $R = 4/4$ .

	
а) атласное	б) рогожка

11. Объясните почему ткани атласного переплетения, схему которого вы заполняли в вопросе 10, отличаются повышенной стойкостью к истиранию, высокой прочностью, малым коэффициентом трения (хорошо скользят, имеют ровную и гладкую поверхность)?

Ответ: характеризуется узкими нитями перекрестиями и одиночные основы перекрестия равномерно по всей рапорту, имеют разную и все нити основы по основе и утку.

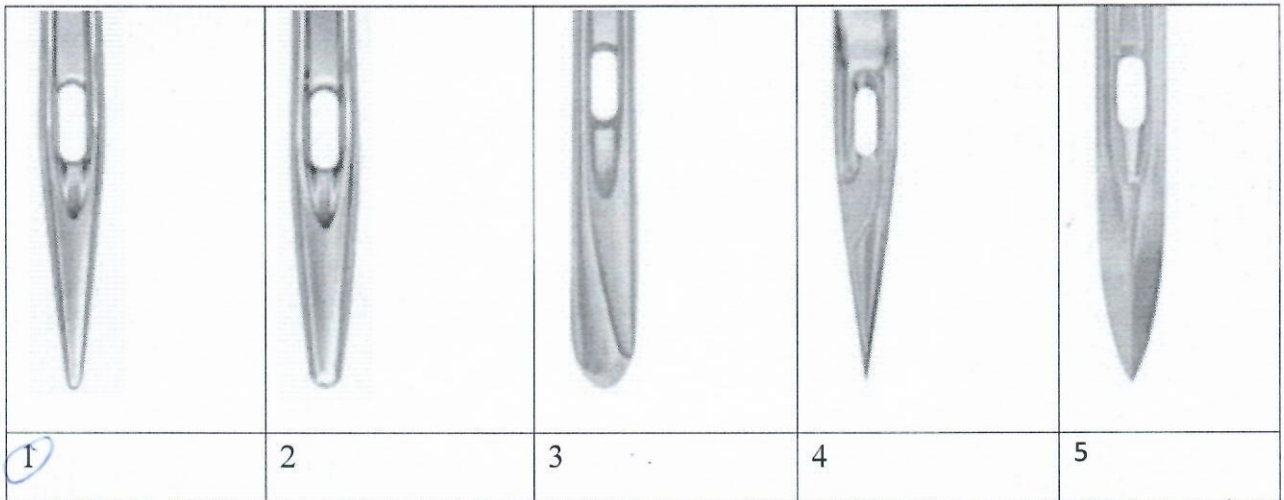
Машиноведение. Технология

12. Определите соответствие между годом изобретения и автором изобретения на швейную машину. Запишите результат в таблицу:  
XIX в (1850), XVIII в (1755), XV в, XVIII в (1790)

Карл Вейнзенталь	А. Зингер	Томас Сент	Леонардо да Винчи
XVIII в (1755)	XIX в (1850)	XVIII 1790	XV в

13. Выберите из предложенного ряда номер машинной иглы для пошива джинсовых изделий. Аргументируйте ответ.

Способ заточки острия - характеристика, определяющая пригодность швейной иглы для работы с материалами определенных ассортиментных групп с учетом прокола ими полотен без повреждения и без излишних нагрузок на швейную машину.



Ответ: 1 ~~2~~

Проектирование и изготовление швейного изделия

14. Ниже представлена раскладка выкроек на ткани юбки двухшовной, с поясом, встречными складками (спереди и сзади) и застежкой на пуговицах спереди.

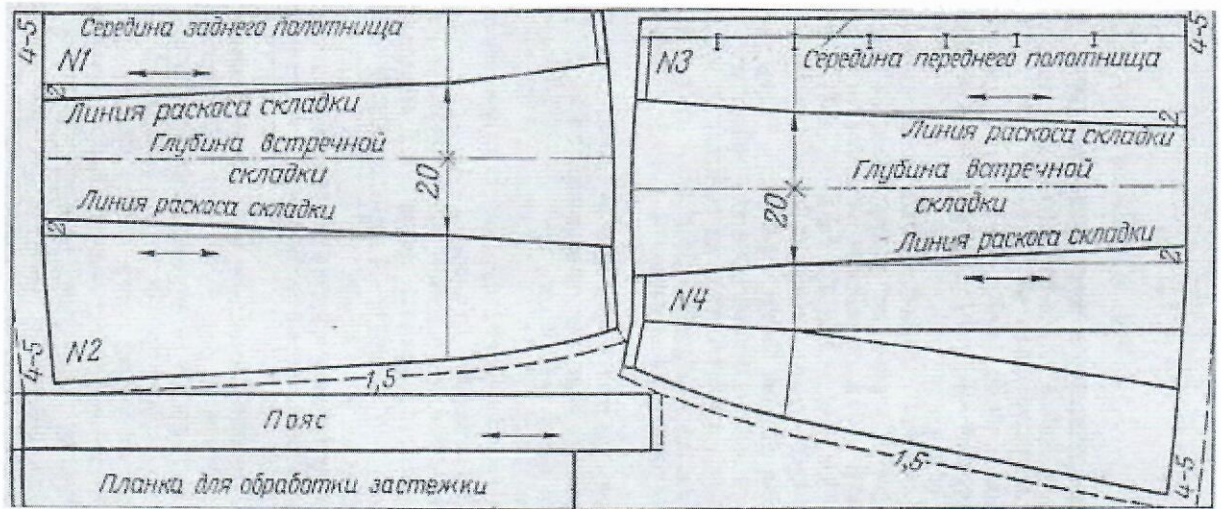
При построении чертежа была допущена ошибка: мерка Об внесена неверно. Она оказалась меньше на 6 см, чем Об заказчика. Закройщик задумался: как решить эту проблему, сохранив модель заказчика. Предложите вариант решения проблемы.

Выполните расчет для исправления ошибки закройщика.

Может закройщик уменьшить глубину складок на величину равную разнице в мерке выкройки на 2 (6:2=3), расшить складки глубиной 2 см.

18

сгиб ткани



кромки

Ответ: 20 - 3 = 17 см

15. Назовите критерий посадки швейного изделия на фигуре человека.

баланс

15

16. Легкий путь к стройности — оптические иллюзии в одежде.



Зрительные иллюзии не только помогают визуально корректировать фигуру, но и создавать гармоничный образ.

Вставьте пропущенные слова в полезные советы для создания такого образа:

1. Девушкам с недлинными ногами не рекомендуется носить брюки удлиненные брюки, бриджи, шорты (какой длины?)

15

2. Более стройными ноги сделает юбка, которая будет заканчиваться на уровне колена, ниже колена (каком уровне?). Нельзя носить юбки.

3. Если вы невысокого роста, не носите обувь высокими (с какими?) каблуками, это будет выглядеть непропорционально.

### История костюма

17. Определите, что явилось прототипами представленных современных головных уборов в историческом костюме, впишите в таблицу:



а) коронка

б) капюшон

### Рукоделие

18. Назовите, разновидность какой технологии представлена техникой текстильного коллажирования.

Ответ: арт-технология

19. Выберите из представленного ниже списка слов орнаменты, установите соответствие с их описанием, впишите в таблицу.

№	Наименование	Описание вида декоративного орнамента, элемента
1	<u>вензель</u>	Монограмма
2	<u>арабески</u>	Европейское название орнамента, построено по принципу бесконечного развития и ритмического повтора геометрических, растительных, или эпиграфических мотивов

3	картуш	Виньетка в виде не совсем развёрнутых свитков, с пустым пространством в середине для надписи цифры, эмблемы и т.д.
---	--------	--

Слова для справок: арабеска, вензель, картуш

15

### Интерьер

20. Определите, с какой целью (кроме бытовых нужд) используют зеркала в интерьере?

Ответ: с целью увеличения объема помещений

21. Предложите вариант обоев, если вам необходимо визуально уменьшить пространство:

Ответ: крупный рисунок приближает поверхность визуально уменьшает, к обоям. Темные цвета украшают

15

### Предпринимательство

22. Решите задачу.

Малое предприятие специализируется на выпуске пижам. Годовой объём производства составляет 60 000 шт. Цена единицы продукции – 200 ден. ед. Прямые производственные расходы составляют 100 денед/шт. Объём постоянных расходов составляет 3200 ден. ед. Увеличение производства объёма продукции на 25 ден. ед. приводит к снижению месячного объёма продаж на 10 шт, а снижение цены на 25 ден. ед. приводит к увеличению ежемесячных продаж на 20 ед. На основе ряда показателей определите, является ли предприятие эффективным, можно ли не увеличивать предприятию цену на продукцию..

Решение: \_\_\_\_\_

### Электротехника.

23. Объясните, можно ли охладить помещение кухни, открыв дверцу холодильника

Ответ: нет не может охладить кухню так как холодильник добавит холода. но поддержит температуру

### Профессиональное самоопределение, профессиональная деятельность

24. Вам надо открыть мини-пекарню по выпечке пирогов с последующей реализацией. Перечислите персонал профессионалов (по профессиям), который необходим для функционирования новой мини-пекарни.

Ответ: без учета руководства и грузчика, функциями могут выполнять технолог и продавец

15

Творческое задание

**25. Даны эскиз и детали кроя платья**

1. По предложенным эскизу платья и деталям кроя определите недостающие детали, пронумеруйте эти детали кроя.
2. В таблице перечня деталей кроя напишите наименование деталей, с учетом недостающих, укажите количество деталей.
3. Предложите технологическую последовательность обработки складки, в эскизе или схеме, указав цифрами последовательность выполнения, укажите название складки.
4. Выполните из бумаги в технике оригами модель платья.

1. Пронумеруйте детали кроя

Детали кроя	Эскиз
	
	<p><b>Описание модели:</b>                      Платье отрезное по линии талии. Верх платья на основе прилегающего силуэта, к низу расширенное. Рельефы на центральных частях переда и спинки проходят от проймы до линии талии. По линии талии широкий втачной пояс. Сгибы встречных складок на юбке заутюжены под наклоном. Застёжка на горловине спинки - на маленькую пуговицу, сбоку по линии талии - на потайную молнию.                      Рекомендуется формоустойчивая купонная ткань.</p>

2. Перечислите детали кроя и их количество:

Таблица 1

№п/п	Наименование детали	Количество деталей



3. Выполните технологическую последовательность обработки складки

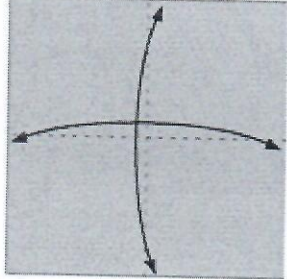



Таблица 2

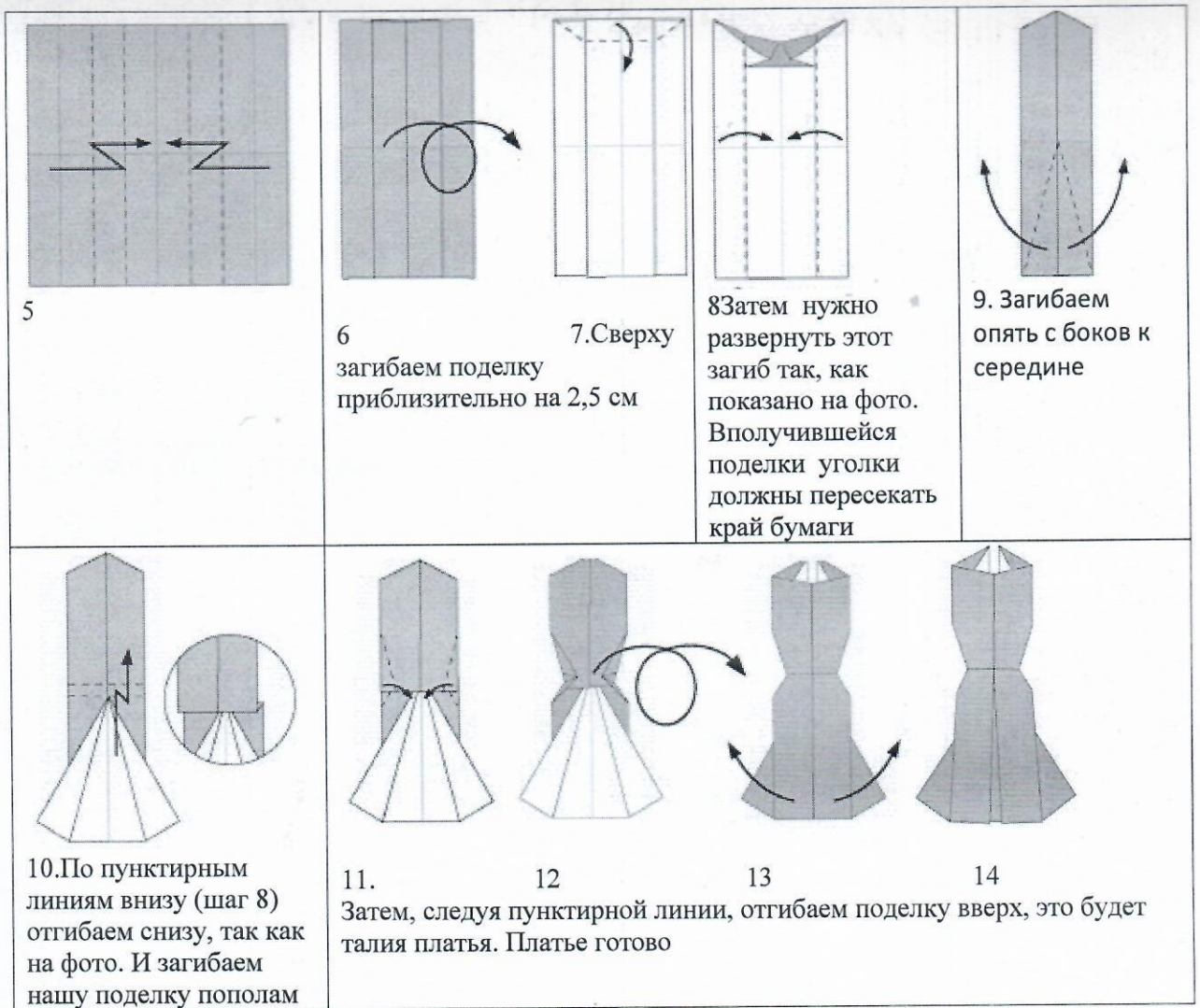
№ п/п	Технологическая последовательность	Эскиз или схема выполнения

Ответ:

4. Одно из направлений современной моды - использование дизайнерами оригами в моделях (вид декоративно-прикладного искусства, древнее японское искусство складывания фигурок из бумаги)

Выполните из цветной бумаги для принтера или для оригами 15x15 см в технике оригами модель платья по предложенной схеме:

			
<p>1 Сложите квадратный лист вчетверо, разверните обратно, нанесите линии сгиба с помощью линейки и карандаша</p>	<p>2 Следуя пунктирным линиям загибаем бока к центру нашей поделки, а потом просто разгибаем</p>	<p>3. Еще раз загибаем поделку с боков, следуя пунктирным линиям.</p>	<p>4. Переверните поделку и расправьте «створки». Посмотрите внимательно на фото и повторите так же со своей поделкой.</p>



Разместите выполненную модель платья на фигуре



*Модельный ряд, предложенный ниже иллюстрирует данное направление моды на подиуме*

